

মডেল অ্যাক্টিভিটি টাস্ক

প্রথম শ্রেণি

সংযোগ স্থাপনে সক্ষমতা

১) নীচের পাঠটি পড়ো এবং বুঝে লেখো :

১ × ২ = ২

চলো ভাই নীলু। এই তালবন দিয়ে পথ। তার পরে তিলখেত। তার পরে তিসিখেত। তার পরে দিঘি। জল খুব নীল। ধারে ধারে কাদা। জলে আলো ঝিলমিলি করে। বক মিটিমিটি চায় আর মাছ ধরে।

ক) নীলু কোন পথ দিয়ে যাবে?

খ) তিসিখেতটা কোথায়?

২) পাঠ থেকে কথা খুঁজে ফাঁকা জায়গা ভরাট করো :

১ × ২ = ২

ক) আকাশের তারাগুলো _____ করে চেয়ে আছে।

খ) রাস্তার _____ নুড়িপাথর পড়ে আছে।

৩) Fill in the blanks with 'a' or 'an' :

১ × ৩ = ৩

(ক) This is _____ ox .

(খ) That is _____ tree .

(গ) It is _____ ant.

৪) কথা বসিয়ে ছক পূরণ করো :

১ × ৩ = ৩

৭	
৯	
৬	

ছাত্রছাত্রীরা বাড়িতে নিজের বিষয়ভিত্তিক খাতায় এগুলো করে বিদ্যালয় খুললে শিক্ষকের কাছে জমা দেবে।

কোনো অবস্থাতেই তারা বাড়ির বাইরে বেরোবে না।

মডেল অ্যাক্টিভিটি টাস্ক

প্রথম শ্রেণি

সমন্বয় স্থাপনে সক্ষমতা

১) খোপগুলি থেকে লেখা নিয়ে মানে বুঝে পাশাপাশি বসাতো :

১ × ৪ = ৪

ক	খ	গ
তাল	ফল	খাও
আমি	আম	ধুপধাপ
বাড়ি	পড়ে	খাই
তুমি	ফেরো	চটপট

২) Add letter and make meaningful words :

১ × ৩ = ৩

ক) _____ + at = _____ .

খ) _____ + in = _____ .

গ) _____ + ox = _____ .

৩) ফাঁকা জায়গা পূরণ করো :

১ × ৩ = ৩

	দশক	একক
ক) এক দশ নয় = _____	<input type="text" value="১"/>	<input type="text" value="৯"/>
খ) _____ = ১৪	<input type="text" value="১"/>	<input type="text" value="৪"/>
গ) এক দশ সাত = ১৭	<input type="text"/>	<input type="text"/>

ছাত্রছাত্রীরা বাড়িতে নিজের বিষয়ভিত্তিক খাতায় এগুলো করে বিদ্যালয় খুললে শিক্ষকের কাছে জমা দেবে।

কোনো অবস্থাতেই তারা বাড়ির বাইরে বেরোবে না।

মডেল অ্যাক্টিভিটি টাস্ক

প্রথম শ্রেণি

সমস্যা সমাধানে সক্ষমতা

১) নীচের পাঠটি পড়ো এবং বুঝে লেখো :

বিকেলে মেঘ করে এল। শনশন করে হাওয়া বইছে। মেলায় লোকেরা হইচই করছে। একটা বড় গাছ মড়মড় করে পড়ে গেল। টুপটাপ জল পড়ছে আকাশ থেকে। একটু পরেই বমবমিয়ে নামল।

ভুল অংশগুলি ঠিক করে লেখ :

১ × ২ = ২

ক) গাছটা শনশন করে পড়ে গেল।

খ) আকাশ থেকে মড়মড় করে জল পড়তে লাগল।

২) সাজিয়ে লেখো :

১ × ২ = ২

ক) থিঅতি _____

খ) জআনা _____

৩) Make three words by joining letters :

১ × ৩ = ৩

c	x	o	u	h	t	p	a
---	---	---	---	---	---	---	---

a) _____

b) _____

c) _____

৪) সমাধান করো :

১ × ৩ = ৩

ক) সকাল থেকে মৌচাকের কাছে ৭টি মৌমাছি উড়ছে। একটু বাদে আরও ৩টি মৌমাছি উড়ে এলো। তাহলে মোট ক'টা মৌমাছি হল?

খ) আমরা ৬ জন মাঠে খেলতে গেলাম। এর পর ০ জন মাঠে এলো। তাহলে এখন মোট কজন হল?

গ) বাজারে গিয়ে বাবা একটা দোকান থেকে ৬টা জিনিস কেনেন। আর একটা দোকান থেকে ৪টা জিনিস কেনেন। তাহলে বাবা মোট ক'টা জিনিস কেনেন?

ছাত্রছাত্রীরা বাড়িতে নিজের বিষয়ভিত্তিক খাতায় এগুলো করে বিদ্যালয় খুললে শিক্ষকের কাছে জমা দেবে।


কোনো অবস্থাতেই তারা বাড়ির বাইরে বেরোবে না।

মডেল অ্যাক্টিভিটি টাস্ক
প্রথম শ্রেণি
মানসিক ও শারীরিক সমন্বয় সাধন

- ১) তোমার দেখা সকালবেলার ছবি আঁকো আর ছবিটাকে নিয়ে বাংলাতে দুটো লাইন লেখো।
- ২) Colour the picture given below and write the name of the objects

৪

৩



- ৩) ছবি এঁকে দেখাও যে একটা ডালে ৩টে পাখি বসে আছে আর ১টি পাখি উড়ে এল। ফলে মোট ৪টে পাখি হল।

৩

ছাত্রছাত্রীরা বাড়িতে নিজের বিষয়ভিত্তিক খাতায় এগুলো করে বিদ্যালয় খুললে শিক্ষকের কাছে জমা দেবে।
কোনো অবস্থাতেই তারা বাড়ির বাইরে বেরোবে না।

মডেল অ্যাক্টিভিটি টাস্ক ২০২১

স্বাস্থ্য ও শারীরশিক্ষা

প্রথম শ্রেণি

বর্ণ, অক্ষর ও সংখ্যা চেনো

(ক) নীচের ছবিগুলির মধ্যে থেকে বর্ণ/অক্ষর/সংখ্যা খুঁজে বের করো।

১ × ৪ = ৪

১। নীচের কোন ছবিটির মধ্যে 'ঙ' বর্ণটি লুকিয়ে আছে তা খুঁজে বের করে তার নীচে '✓' চিহ্ন দাও।

(i)



(ii)



(iii)



(iv)



২। নীচের কোন ছবিটির মধ্যে 'V' বর্ণটি লুকিয়ে আছে তা খুঁজে বের করে তার নীচে '✓' চিহ্ন দাও।

(i)



(ii)



(iii)



(iv)



৩। নীচের ০ থেকে ৯ পর্যন্ত কোন গাণিতিক সংখ্যাটি দিয়ে নীচের 'ফুলের পাপড়ি' এই ছবিটি তৈরি করা সম্ভব, তার নীচে '✓' চিহ্ন দাও এবং ছবিতে রং করো।

এবার পাপড়ি হল
হয়নি কোনো ভুল।



i) ০


ii) ৫

iii) ৬

iv) ৩

৪। নীচের ০ থেকে ৯ পর্যন্ত কোন গাণিতিক সংখ্যাটি দিয়ে নীচের 'হাঁসের' এই ছবিটি তৈরি করা সম্ভব, তার নীচে '✓' চিহ্ন দাও এবং ছবিতে রং করো।

হাঁসটা কেমন দ্যাখো
জলেই ভেসে যায়।



i) ০

ii) ৯





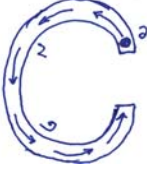

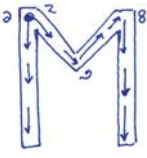

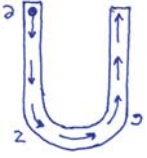



iii) ৭

iv) ৫

শিক্ষার্থীদেরকে বাড়িতে নিজের বিষয়ভিত্তিক খাতায় এ প্রশ্নগুলোর উত্তর লিখে বিদ্যালয় কর্তৃপক্ষের নির্দেশমতো অভিভাবকদের মাধ্যমে শিক্ষকদের কাছে জমা দিতে হবে। কোনো অবস্থাতেই শিক্ষার্থীরা বিদ্যালয়ে জমা দিতে আসবে না।

খ। নীচের ছকের নির্দেশ মতো কাজগুলি করো :

১ × ৬ = ৬

ক্রমিক সংখ্যা	অক্ষর লেখার পদ্ধতি	পাশের বর্ণটি যেমন আছে তেমন লেখো	ছবি	পাশে দেওয়া ছবিটিতে কী দেখতে পাচ্ছে তা লেখো
১			 Ant অ্যান্ট	যেমন - পিঁপড়ে
২			 Soap সোপ
৩			 Cap ক্যাপ
৪			 Mat ম্যাট
৫			 Umbrella আমব্রেলা
৬			 Zig zag জিগ্-জ্যাগ

নাম :

ক্লাস : রোল নং :

বিদ্যালয়ের নাম :