



প্রথম পর্যায়ক্রমিক মূল্যায়ন - ২০২২

বিষয় - মজারু ও কুটুম কাটাম
শ্রেণি - প্রাক্ প্রাথমিক


পূর্ণমান - ১০
সময় - ২০মিনিট

বিদ্যালয়ের নাম :-----

শিক্ষার্থীর নাম :- ----- রোল নং :- -----

১। বিন্দুগুলি যোগ করি।

$$\frac{5}{2} \times 8 = 2$$



২। প্রথম বর্ণের সাথে ছবি যোগ করি।

$$\frac{5}{2} \times 8 = 2$$


ম



ব



স


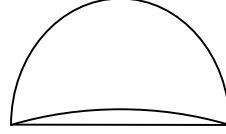
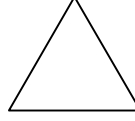



ফ



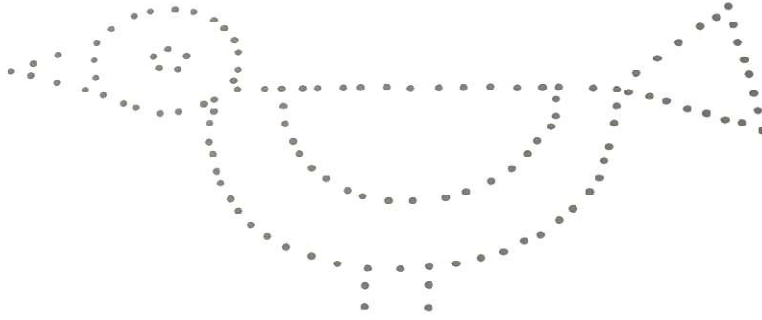
৩। দুদিক মেলাই।

$$\frac{১}{২} \times ৪ = ২$$



৪। ছবিটি সম্পূর্ণ করে করি।

$$১ + ১ = ২$$



৫। বিন্দু যোগ করে হাঁসের যাওয়ার পথ তৈরি করি।

২

